

Minu nimi on .....

Täna on .....

### 1. Ilmakaared

Mina olen ..... mäe tipus.

Tee kaardil X kohale kus sa seisad.

Kirjuta, mida sa märkad allpool nimetatud ilmakaare suunas.

Kui ma seisan näoga põhja suunas

jääb minust põhja .....

jääb minust lõunasse .....

jääb minust itta .....

jääb minust läände .....





jääb minust edelasse .....

jääb minust loodesse .....

### 2. Tee õige vastuse taha rist:

Plaan on väikese maa-ala täpne vähendatud tasapinnaline kujutis Plaan on suure maa-ala täpne vähendatud tasapinnaline kujutis		Leppemärkide ja värvuste tähendus peab olema peas, seda kaardil ei ole.  Leppemärkide ja värvuste tähendus on seletatud kaardi legendis	
Kui arvmõõtkava suhte paremalt poolt kriipsutada maha viis viimast nulli, siis järelejäänud arv näitab mitmele m looduses vastab 1 cm kaardil.  Kui arvmõõtkava suhte paremalt poolt kriipsutada maha viis viimast nulli, siis järelejäänud arv näitab mitmele km looduses vastab 1 cm kaardil.		Viseerimiseks ehk suuna määramiseks kasutatakse viseerimisjoonlauda või pliatsit.  Viseerimiseks ehk suuna määramiseks kasutatakse kätt.	
Asimuut on põhjasuuna ja mingile objektile võetud suuna vaheline nurk Asimuut on lõunasuuna ja mingile objektile võetud suuna vaheline nurk		Ühe ja sama kõrgusega maapinnapunte ühendab samatemperatuurijaan ehk isoterm  Ühe ja sama kõrgusega maapinnapunte ühendab samakõrgusjoon ehk horisontaal	
Samakõrgusjooned on kaardil pruuni värviga Samakõrgusjooned on kaardil musta värviga		Augul on kaardil kriips väljapoole  Augul on kaardil kriips sissepoole	

### 3. Vii kokku pinnavorm ja selle nimetus

	<b>Lohk</b>		<b>Vaarad</b>
	<b>Vallid</b>		<b>Org</b>

	<b>Lohk</b>		<b>Järsak</b>
	<b>Orvand</b>		<b>Auk</b>
	<b>Küngas</b>		<b>Väike lohk</b>

#### 4. Vii kokku mõõtkava ja selle selgitus (IV kl)

Mõõtkava näitab, mitu korda on nendel kujutatud vahemaad väiksemad kui tegelikud vahemaad looduses.

Ehk 1 cm-le kaardil vastab niipalju cm looduses

- Kui arvmõõtkava suhte paremalt poolt kriipsutada maha kaks viimast nulli, siis järelejäänud arv näitab mitmele m looduses vastab 1 cm kaardil.
- Kui arvmõõtkava suhte paremalt poolt kriipsutada maha viis viimast nulli, siis järelejäänud arv näitab mitmele km looduses vastab 1 cm kaardil.

M 1: 1 500 000	1 cm kaardil = 10 m looduses
M 1: 10 000	1 cm kaardil = 2 km looduses
M 1: 100	1 cm kaardil = 1 m looduses
M 1: 1000	1 cm kaardil = 10 km looduses
M 1: 1 000 000	1cm kaardil = 100 m looduses
M 1: 200 000	1 cm kaardil = 15 km looduses